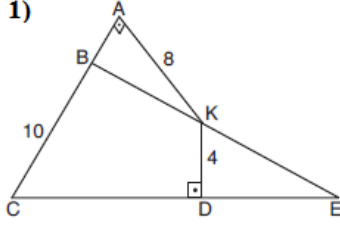


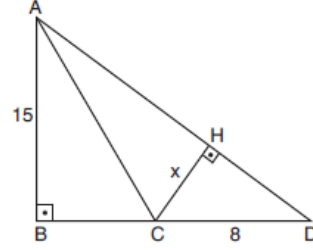
1)



BCE bir üçgen
 $[KA] \perp [CA]$
 $[KD] \perp [CE]$
 $|AK| = 8$ birim
 $|KD| = 4$ birim
 $|BC| = 10$ birim
 $|CE| = 18$ birim

Yukarıdaki verilere göre, Alan(BCE) kaç birimkaredir?

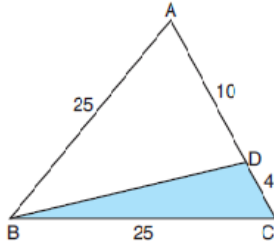
2)



ABD bir üçgen
 $[AB] \perp [BD]$
 $[CH] \perp [AD]$
 $|AB| = 15$ birim
 $|CD| = 8$ birim
 $|AD| = 24$ birim
 $|CH| = x$

Yukarıdaki verilere göre, x kaç birimdir?

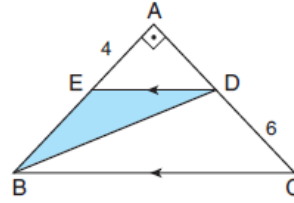
3)



ABC bir üçgen
 $|AB| = |BC| = 25$ birim
 $|DC| = 4$ birim
 $|AD| = 10$ birim

Yukarıdaki verilere göre, Alan (BDC) kaç birimkaredir?

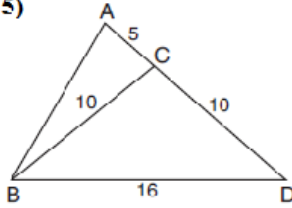
4)



ABD bir üçgen
 $[BA] \perp [AC]$
 $[ED] \parallel [BC]$
 $|AB| = 4$ cm
 $|DC| = 6$ cm

Yukarıdaki verilere göre, Alan(EDC) kaç cm^2 dir?

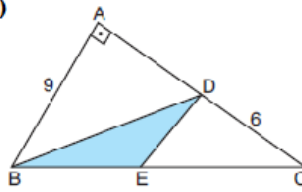
5)



ABD bir üçgen
 $|BC| = |DC| = 10$ cm
 $|BD| = 16$ cm
 $|AC| = 5$ cm

Yukarıdaki verilere göre, Alan (ABD) kaç cm^2 dir?

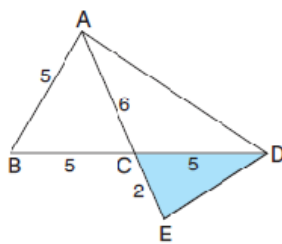
6)



ABC bir üçgen
 $[BA] \perp [CA]$
 $|EC| = 2|BE|$
 $|AB| = 9$ birim
 $|DC| = 6$ birim

Yukarıdaki verilere göre, Alan (BDE) kaç birimkaredir?

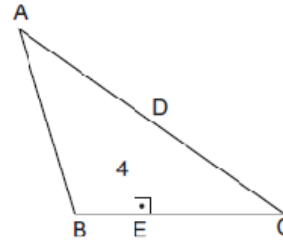
7)



ABD ve AED birer üçgen
 $|AB| = |BC| = |CD| = 5$ cm
 $|AC| = 6$ cm
 $|CE| = 2$ cm

Yukarıdaki verilere göre, Alan (CED) kaç cm^2 dir?

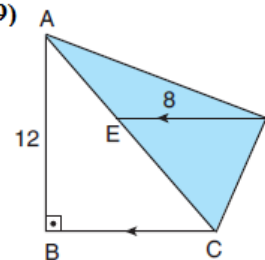
8)



ABC bir üçgen
 $[DE] \perp [BC]$
 $|AD| = |DC|$
 $|DE| = 4$ cm
 $|BC| = 12$ cm

Yukarıdaki verilere göre, Alan(ABC) kaç cm^2 dir?

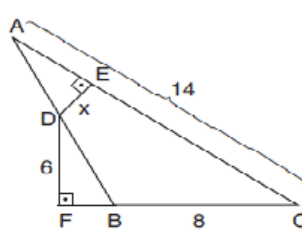
9)



ABC bir üçgen
 $[AB] \perp [BC]$
 $[BC] \parallel [DE]$
 $|AB| = 12$ cm
 $|DE| = 8$ cm

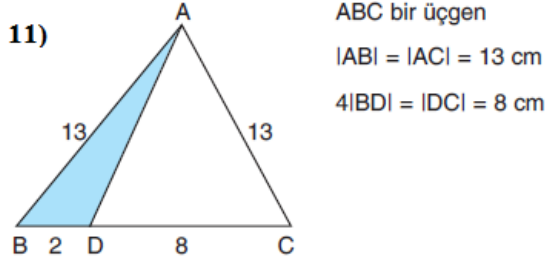
Yukarıdaki verilere göre, Alan (ACD) kaç cm^2 dir?

10)

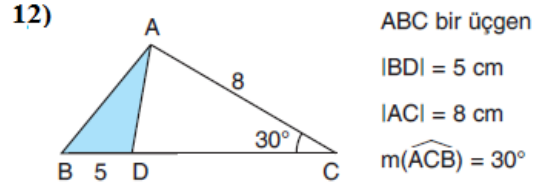


ABC bir üçgen
 $[DE] \perp [AC]$
 $[DF] \perp [CB]$
 $|AC| = 14$ cm
 $|DF| = 6$ cm
 $|BC| = 8$ cm
 $|DE| = x$
 $\text{Alan}(\widehat{ABC}) = 45 \text{ cm}^2$

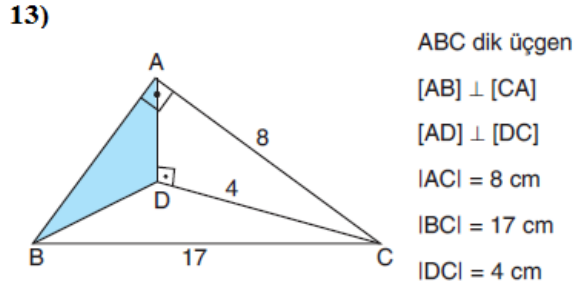
Yukarıdaki verilere göre, x kaç cm dir?



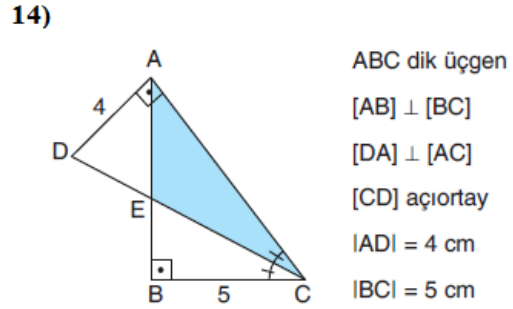
Yukarıdaki verilere göre, Alan(\widehat{ABD}) kaç cm dir?



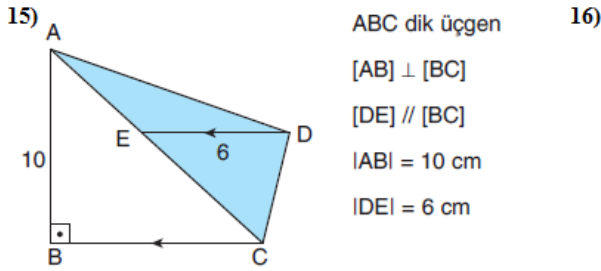
Yukarıdaki verilere göre, Alan(\widehat{ABD}) kaç cm^2 dir?



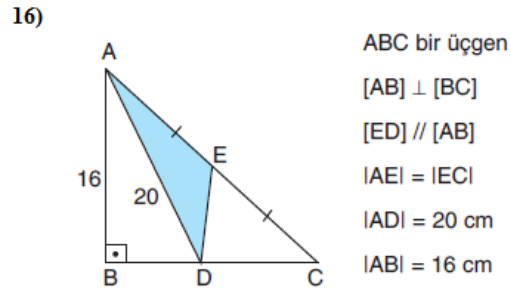
Yukarıdaki verilere göre, Alan(\widehat{ABD}) kaç cm^2 dir?



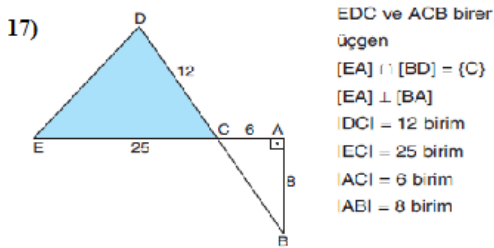
Yukarıdaki verilere göre, A(AEC) kaçtır?



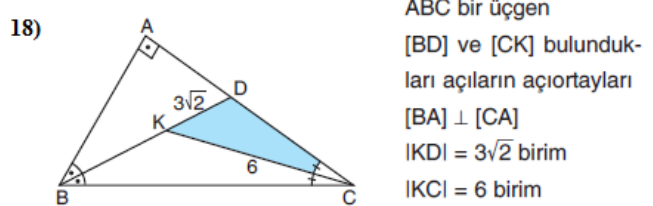
Yukarıdaki verilere göre, Alan(\widehat{ACD}) kaç cm^2 dir?



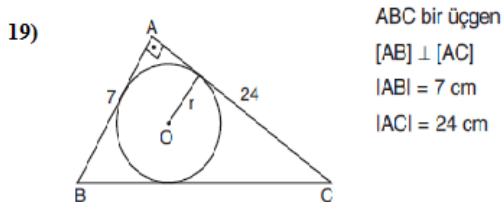
Yukarıdaki verilere göre, Alan(\widehat{ADE}) kaç cm^2 dir?



Yukarıdaki verilere göre, Alan (EDC) kaç birimkaredir?



Yukarıdaki verilere göre, Alan (KDC) kaç birimkaredir?



Yukarıdaki verilere göre, ABC dik üçgeninin iç teğet çemberinin yarıçapı kaç cm dir?

